



## Tööleht 5. Sõidame kooli jalgrattaga!


1. Avatud on kaardirakendus „Koolitee kaardistamine“


2. Täna sõidad kooli jalgrattaga. Vali märk jalgratas  ja märgi kaardile teekond kooli.

Jalgrattaga liiklemiseks on ette nähtud jalgrattatee , jalgratta- ja jalgtee  ning sõiduteele märgitud jalgrattarada, samuti võib sõita õuealal, sõiduteel ning teepeenral ja ka ühissõidukirajal, kui see on lubatud.

3. Vasta küsimustele:

- Millist teed kasutad Sina kooli jõudmiseks? Vali õige vastus:

a) Kasutan kooli jõudmiseks jalgrattateed 

b) Kasutan kooli jõudmiseks jalgratta- ja jalgtee 

c) Puudub jalgratta- ja jalgtee ning jalgrattatee, kasutan jalgrattaga kooli jõudmiseks

.....  
.....

- Kas jalgrattateel on lubatud sõita tõukerattaga? Rulaga?

.....

- Kas jalgratta- ja jalgteel on lubatud sõita mopeediga?

.....

- Millisel pool sõidutee ääres on lubatud jalgrattaga sõita?

.....

- Kas jalgrattateel ning jalgratta- ja jalgteel sõitmiseks on vaja jalgratturi juhiluba?

.....

- Iseseisvalt tohib sõiduteel jalgratast juhtida alates .....-aastaselt ning alates ..... kuni .....-aastasel jalgratturil peab selleks olema jalgratturi juhiluba.